

மையம் : _____

மேற்பார்வையாளர்

கையொப்பம்: _____

பெயர்: _____

பதிவு எண்: _____

நாள் : _____

தமிழ் இணையக் கல்விக்கழகம்
சென்னை - 600 025.

AM00 அகரம்

காட்சித்தேர்வு

ஜனவரி-பிப்ரவரி 2024

நேரம் : 15 மணித்துளிகள்

Time : 15 Minutes

மதிப்பெண் : 100

Total Marks : 100


I. கீழ்க்காணும் ஐந்து உயிர்மெய்யெழுத்துக்களையும் அவற்றின் பொருத்தமான படங்களின் பெயர்களையும் கூறச் செய்க. (5 x 5 = 25)



க் - கொக்கு



ங்- சங்கு



ச் - பச்சைக்கிளி



ட்- பட்டம்



ண்-நண்டு



த்-நத்தை




ந்-தந்தம்



ப்-கப்பல்



ம்-அம்மா



த்-வாத்து

II. கீழ்க்காணும் படங்களிலிருந்து எவையேனும் ஐந்து பண்டிகைகளைக் கூறச்செய்க.
(5 x 5 = 25)



போகி



தீபாவளி




உழவர் திருநாள்



காணும் பொங்கல்



ஆடிப் பெருக்கு



இரமலான்



கிறிஸ்துமஸ்



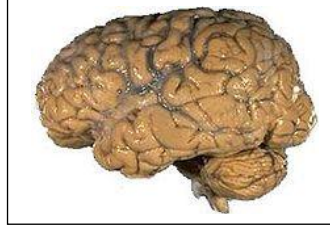
புத்தாண்டு

III. கீழ்க்காணும் படங்களிலிருந்து எவையேனும் ஐந்து உடல் உறுப்புகளின் பாகங்களைக் கூறச்செய்க..

(5 x 5 = 25)



இதயம்



மூளை



நரம்பு



நாக்கு



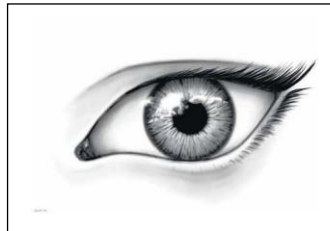
பல்



புருவம்



உதடு



கண்

IV. கீழ்க்காணும் படங்களிலிருந்து எவையேனும் ஐந்து பறவைகளின் பெயர்களைக் கூறச்செய்க
(5 x 5 = 25)



மயில்



கொக்கு



கிளி



ஆந்தை



காகம்



குயில்



கழுகு



வாத்து